

PROVAS ANTERIORES

TURMA ESA



QUESTÕES ESA 2021

PAPIRO FERROZ

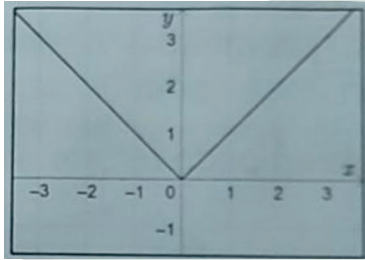


Prova ESA 2021

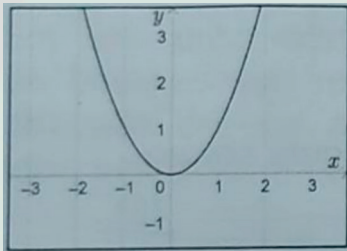
MATEMÁTICA

1-Assinale a alternativa cujo gráfico representa a função exponencial $f(x) = 2^x$:

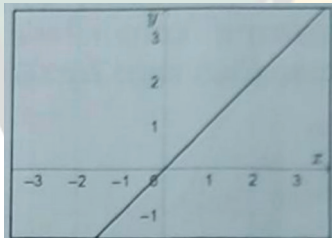
A)



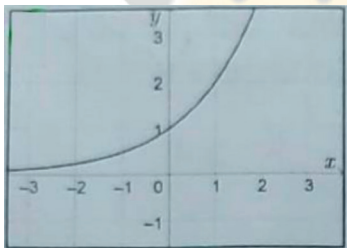
B)



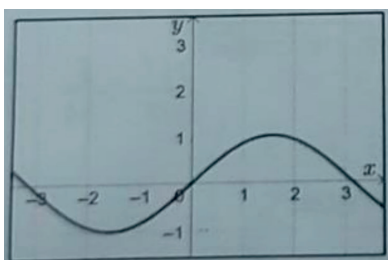
C)



D)



E)



2- Considere a e b números reais positivos. Se $\log a = 2$ e $\log b = 3$, o valor de $\log(a.b^2)$ é igual a:

- A) 11
- B) 18
- C) 12
- D) 10
- E) 8

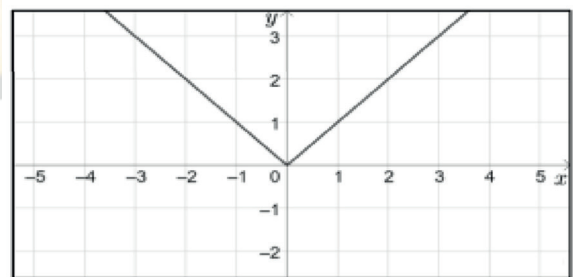
3- Identifique o ângulo X , em radianos, do intervalo $[0, 2\pi]$ cujo $\sin X$ é igual a $\sin 2X$.

- A) $(\pi/2)$ rad
- B) $(\pi/9)$ rad
- C) $(\pi/4)$ rad
- D) $(\pi/6)$ rad
- E) $(\pi/3)$ rad

4- A expressão que fornece o número de anagramas da palavra SARGENTO, onde as vogais aparecem em ordem alfabética, é:

- A) $8! / 3!$
- B) $(8! - 5!) / 3!$
- C) $(8! - 3!) / 5!$
- D) $8! - 3!$
- E) $8!$

5- Observe o gráfico da função modular $f: \mathbb{R} \rightarrow \mathbb{R}$ definida pela lei $f(x) = |x|$.

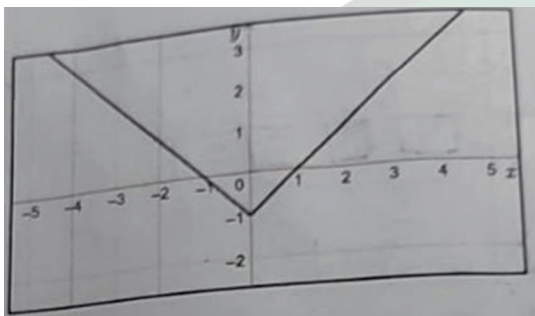




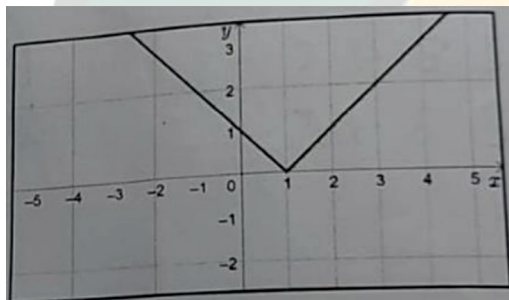
Prova ESA 2021

Nessas condições, assinale a alternativa que ilustra o gráfico da função $g: \mathbb{R} \rightarrow \mathbb{R}$ definida pela lei $g(x) = |x + 1|$.

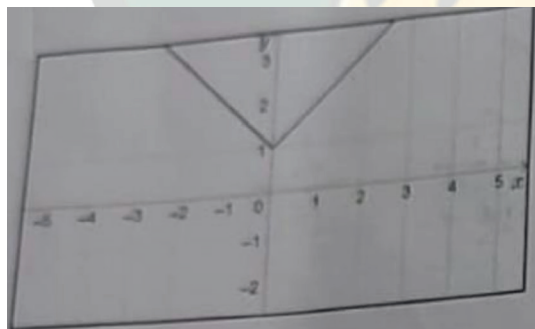
A)



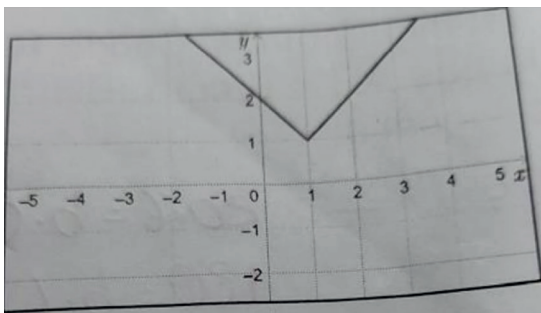
B)



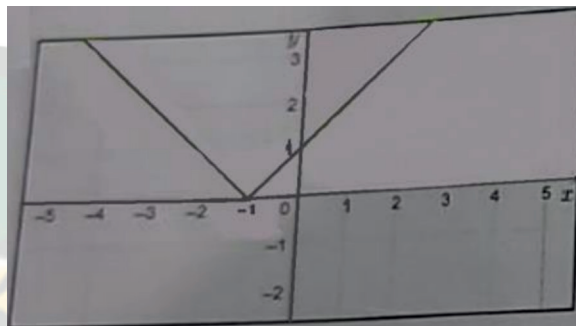
C)



D)



E)



6- O valor de uma viatura militar decresce linearmente com o tempo. Se hoje ela custa 50 mil dólares e daqui a 5 anos vale apenas 10 mil dólares, qual seria o valor da viatura daqui a três anos?

- A) 26 mil
- B) 30 mil
- C) 24 mil
- D) 32 mil
- E) 34 mil

7- Em uma urna existem 5 bolinhas numeradas de 1 a 5. Quatro dessas bolinhas são retiradas, uma a uma, sem reposição. Qual a probabilidade de que a sequência de números observados, nessas retiradas, seja crescente?

- A) $1/24$
- B) $1/36$
- C) $1/12$
- D) $2/5$
- E) $1/5$

8- Sejam **A** e **B** matrizes de ordem 2 tais que $\det A = 2$ e $\det B = 5$. Marque a alternativa que expressa o valor de $\det (2AB)$

- A) 10
- B) 20
- C) 30
- D) 40
- E) 50

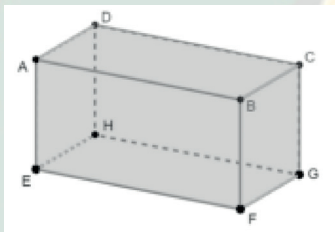


Prova ESA 2021

9- Numa PA crescente, os seus dois primeiros termos são raízes da equação $X^2 - 11X + 24 = 0$. Sabendo que o número de termos dessa PA é igual ao produto dessas raízes, então a soma dos termos dessa progressão é igual a

- A) 1.350
- B) 1.200
- C) 1.100
- D) 1.452
- E) 1.672

10- Observe o paralelepípedo retângulo da figura abaixo.



Sobre este sólido, assinale a única alternativa correta.

- A) As retas \overleftrightarrow{CD} e \overleftrightarrow{CG} são ortogonais entre si.
- B) As retas \overleftrightarrow{AC} e \overleftrightarrow{HF} são paralelas entre si.
- C) A reta \overleftrightarrow{CF} é paralela ao plano (ADH).
- D) As retas \overleftrightarrow{BF} e \overleftrightarrow{DH} são perpendiculares entre si.
- E) A reta \overleftrightarrow{AB} é perpendicular ao plano (EFG).

11- O produto de todos os números reais que satisfazem a equação modular $|3x - 12| = 18$ é um número P . Então, o valor de P é igual a

- A) -2
- B) -20
- C) 10
- D) -100
- E) 20

12- A “Operação Carro – Pipa”, destina-se combater a seca no Nordeste. Essa logística é feita através de caminhões tanque. Admitindo que esses tanques sejam cilíndricos (raio = 0,8m e altura 6,25m). Quantas viagens desses carros cheios (carradas) serão necessárias para abastecer totalmente uma cisterna comunitária, em forma de paralelepípedo retângulo, cujas dimensões são: 7m x 6m x 2m? (Considere $\pi = 3$)

- A) 4
- B) 5
- C) 3
- D) 6
- E) 7

13- Qual é a posição do ponto $P(5, 3)$ em relação à circunferência de centro $C(3, 1)$ e raio igual a 5 unidades?

- A) Externo.
- B) Pertence à circunferência.
- C) Interno, não coincidente com o centro.
- D) Coincidente com o centro.
- E) Excêntrico.

14- Considere um triângulo retângulo ABC, retângulo em A. Sendo H o pé da altura relativa à hipotenusa e sabendo que $AH = 6$ cm e $BH = 2$ cm, o produto dos comprimentos dos catetos é igual a:

- A) 150 cm²
- B) 144 cm²
- C) 180 cm²
- D) 120 cm²
- E) 108 cm²



Prova ESA 2021

PORTUGUÊS

TEXTO a ser utilizado para responder as questões 15,16 e 17

“Algum tempo hesitei se devia abrir estas memórias pelo princípio ou pelo fim, isto é, se poria em primeiro lugar o meu nascimento ou a minha morte. Suposto o uso vulgar seja começar pelo nascimento, duas considerações me levaram a adotar diferente método: a primeira é que eu não sou propriamente um autor defunto, mas um defunto autor, para quem a campa foi outro berço; a segunda é que o escrito ficaria assim mais galante e mais novo. Moisés, que também contou a sua morte, não a pôs no intróito, mas no cabo: diferença radical entre este livro e o Pentateuco.”

(Trecho do livro “Memórias Póstumas de Brás Cubas” de Machado de Assis)

15- O autor personagem decidiu iniciar sua narrativa pelo fim, pois:

- A) todos gostam de ouvir sobre a morte de alguém.
- B) escritor que é escritor sempre faz dessa forma.
- C) é comum para esse tipo de narrativa.
- D) ninguém tinha feito assim antes.
- E) a história é de terror.

16- Qual a diferença entre “AUTOR DEFUNTO” E “DEFUNTO AUTOR”?

- A) são sinônimos.
- B) o primeiro iniciou sua carreira após a morte e o segundo, em vida.
- C) o primeiro foi autor em vida e o segundo, só após a morte.
- D) o primeiro escreve sobre sua morte e o segundo, após a sua morte.
- E) o primeiro tem como tema em sua obra a morte e o segundo, o ato de escrever.

17- Neste trecho do livro “Memórias Póstumas de Brás Cubas” de Machado de Assis o autor-personagem faz uma comparação com Moisés. Essa comparação é baseada em ambos:

- A) serem amigos.
- B) falarem de suas mortes.
- C) serem escritores.
- D) gostarem da vida.
- E) gostam do novo.

18- Leia a seguir os versos de João Cabral de Melo Neto.

*“Está apenas em que a terra
é por aqui mais macia;
está apenas no pavio,
ou melhor, na lamparina.”*

O valor semântico correto para a expressão destacada (sublinhada) é de:

- A) retificação.
- B) valoração.
- C) condição.
- D) comparação.
- E) contradição.

19- Observe a tira do Calvin a seguir:



A função da linguagem predominante na fala do Calvin, por testar o canal de contato com outra pessoa, é a:

- A) conotativa (apelativa).
- B) metalinguística.
- C) poética.
- D) denotativa.
- E) fática.

20- “Escreve! Molha a pena, o leve estilo enrasta!

Pinta um canto de céu, uma nuvem de gaze
Solta, brilhante ao sol; e que a alma se te vaze
Na cópia dessa luz que nos deslumbra a vista.”

Esses versos pertencem à 2ª estrofe de um soneto. Analisando seus aspectos formais, conclui-se que o poema:

- A) tem versos brancos e livres e quatro quartetos.
- B) tem quatorze versos de doze sílabas e rimas ricas.
- C) tem doze versos de dez sílabas e rimas alternadas.
- D) tem quatro versos de dez sílabas e ausência de rimas.
- E) e não tem número fixo de estrofes nem sílabas métricas.



Prova ESA 2021

21- Observe:

“O bom escritor sabe que elementos como a coerência e coesão são indispensáveis para a inteligibilidade dos textos escritos, bem como o respeito às normas gramaticais.”

Se o termo **escritor** fosse colocado no plural, quantas outras alterações seriam necessárias para manter a correção da frase?

- A) Duas.
- B) Três.
- C) Quatro.
- D) Uma.
- E) Cinco.

22- Dentre as palavras destacadas, é um advérbio:

- A) Desculpe-me ... mas sente-se mal?
- B) Da família, só elas duas estão vivas.
- C) Final, não tenho culpa do ocorrido.
- D) Por que você não veio à festa?
- E) Até Maria chegou atrasada.

23- Observe o enunciado abaixo:



De acordo com o texto, analise as afirmações abaixo:

I- “O” é um artigo definido e seu valor semântico é de notoriedade.

II- “O” é um artigo indefinido e seu valor semântico é de generalização.

III- “Ele” é um pronome e o termo “é” é um verbo não nocional.

IV- A expressão “cara” é característica da linguagem informal.

Quais estão corretas?

- A) Apenas I, III e IV.
- B) Apenas III e IV.
- C) I, II, III e IV.
- D) Apenas II e III.
- E) Apenas I e IV.

24- São exemplos de verbos irregulares, exceto:

- A) Restrinjo a passagem de alunos por aqui a partir de hoje.
- B) Quando tinha três anos, já media um metro.
- C) Todos os anos, ela me dava um presente.
- D) Minha mãe faz bolos deliciosos.
- E) Nós pedimos uma pizza.

25- Assinale a alternativa em que os vocábulos obedecem às mesmas regras de acentuação gráfica das palavras “temática” e “saúde”, respectivamente:

- A) hífen, ótimo.
- B) parabéns, mágico.
- C) médico, conteúdo.
- D) robótica, café.
- E) revólver, fâisca.

26- Marque a alternativa que classifica as palavras abaixo quanto à acentuação, respectivamente:

Tábua / Céu / Tórax

- A) Paroxítona/ Paroxítona/ Paroxítona.
- B) Oxítona/ Monossílabo átono/ Paroxítona.
- C) Paroxítona/ Monossílabo tônico/ Paroxítona.
- D) Monossílabo átono/ Paroxítona/ Oxítona.
- E) Proparoxítona/ Paroxítona/ Oxítona.

27- Leia um fragmento da Carta de Pero Vaz de Caminha, a seguir. (A imagem é meramente ilustrativa)



Fonte: <https://www.culturagenial.com/carta-pero-vaz-de-caminha/>
“Nela, até agora, não pudemos saber que haja ouro, nem prata, nem coisa alguma de metal ou ferro; nem lho vimos. Porém a terra em si é de muito bons ares [...]. Porém o melhor fruto que dela se pode tirar me parece que será salvar esta gente.”

(Carta de Pero Vaz de Caminha. In: MARQUES, A.; BERUTTI, F.; FARIA, R. História moderna através de textos. São Paulo: Contexto, 2001.)



Prova ESA 2021

Nesse trecho, o relato de Caminha alinha-se ao projeto colonizador da Coroa Portuguesa para a nova terra, pois, essencialmente,

- A) realça somente a possibilidade da catequese para os povos nativos.
- B) informa sobre o potencial econômico e a oportunidade de conversão católica.
- C) descreve a exuberância das terras, para impressionar a Coroa Portuguesa.
- D) demarca a superioridade europeia, para enfatizar a miséria dos indígenas.
- E) evidencia a ausência de trabalho dos povos autóctones (povos nativos).

28-

“D. Carolina é o prazer em ebulição; se é inquieta e buliçosa, está em sê-lo a sua maior graça; aquele rosto moreno, vivo e delicado, aquele corpinho, ligeiro como a abelha, perderia metade do que vale, se não estivesse em contínua agitação. O beija-flor nunca se mostra tão belo como quando se pendura na mais tênue flor e voeja nos ares. D. Carolina é um beija-flor completo.”

MACEDO, J.M.de. A moreninha. Rio de Janeiro: Tecnoprint, s/d. p.77.

A moreninha, de Joaquim Manuel de Macedo, é o primeiro romance do Romantismo brasileiro. Nessa passagem, evidenciam-se as seguintes características desse movimento:

- A) Aproximação da leitora em ambientação no contexto burguês.
- B) Sentimentalismo exacerbado e linguagem próxima ao coloquial.
- C) Narrador em primeira pessoa e predomínio do sonho.
- D) Idealização feminina e metaforização da natureza.
- E) Eu- lírico introspectivo e representações vagas.

HISTÓRIA E GEOGRAFIA

29- Bem mais que um limite, a fronteira é, sobretudo, uma zona de interações. A Constituição Brasileira de 1988 considera, nas fronteiras terrestres, faixa de fronteira uma largura de:

- A) 10 km.
- B) 50 km.
- C) 200 km.
- D) 150 km.
- E) 100 km.

30- Durante o início da colonização do Brasil por Portugal, teve-se a figura política dos governadores-gerais. O primeiro governador-geral, que governou de 1549 a 1553, foi:

- A) Lourenço da Veiga.
- B) D. Luis Fernandes de Vasconcelos.
- C) Mem de Sá.
- D) Tomé de Sousa.
- E) Duarte da Costa.

31- O Brasil tem um território de dimensões continentais. Suas terras se estendem pela Zona Climática Intertropical e seu litoral é igualmente extenso. Essa e outras características, imprimiram no clima nacional, forte influência das massas de ar oceânicas. Observe as massas de ar que atuam no território brasileiro e analise as afirmativas abaixo:



I- As massas de ar equatoriais e tropicais têm sua atuação atenuada no inverno, em função do avanço da Massa Polar Atlântica (mPa)

II- Em grande parte da Amazônia, o clima é quente e úmido o ano inteiro porque permanecem atuando massas quentes e úmidas- Massa Equatorial Continental (mEc) e Massa Equatorial Atlântica (mEa).

III- Na área central do país, por consequência do encontro da Massa Tropical Atlântica (mTa) e a Massa Polar Atlântica (mPa), forma-se uma frente fria e há ocorrência de fortes chuvas no inverno.

IV- No clima subtropical ocorrem verões amenos e invernos rigorosos, com chuvas mal distribuídas ao longo do ano, consequência da ação dominante da Massa Polar Atlântica (mPa).

Estão corretas as afirmativas:

- A) III e IV.
- B) I e IV.
- C) II e III.
- D) I e III.
- E) I e II.



Prova ESA 2021

32- Pode-se destacar como primeiras providências do governo republicano no Brasil (1889- 1891), a:

- A) primeira Constituição republicana, que estabeleceu o voto universal e secreto.
- B) promulgação da grande naturalização, com o objetivo de amenizar o xenofobismo contra os ingleses e pobres.
- C) separação entre Igreja e Estado, criando os registros civis e extinguindo o padroado.
- D) reforma financeira, com o objetivo de estimular o desenvolvimento da agricultura.
- E) instituição do centralismo e a transformação das províncias em estados membros da federação.

33- O Sistema Nacional de Unidades de Conservação (SNUC) foi criado pela lei 9.985, de 18 de julho de 2000 e tem como um dos objetivos proteger os recursos naturais necessários à subsistência de populações tradicionais, respeitando e valorizando seu conhecimento, sua cultura, promovendo-as social e economicamente, sendo denominadas Unidades de Proteção Integral e Unidades de Uso Sustentável, conforme a restrição ao uso:

Entende-se por Unidades de Conservação ao Uso Sustentável as (os):

- A) Reservas Extrativistas.
- B) Estações Ecológicas.
- C) Parques Biológicos.
- D) Monumentos Naturais.
- E) Parques Nacionais.

34- No final do século XIX a monarquia Brasileira estava desgastada politicamente, o que resultou numa crise da monarquia brasileira e Proclamação da República, pode-se afirmar que:

- A) o governo monárquico não reagiu a situação difícil que se encontrava.
- B) a proclamação da República foi efetivada sem a participação de militares do Exército.
- C) a igreja Católica foi a única instituição que apoiou o imperador até a sua queda.
- D) o Manifesto Republicano já havia sido lançado no final do século XVIII, pela Conjuração Carioca.
- E) com a abolição da escravidão, muitos senhores de escravos passaram a apoiar a causa republicana.

35- Em relação à dinâmica recente e às características do agronegócio praticado no Brasil, a única afirmação que condiz com a realidade é:

- A) A produção de frango nunca teve uma participação expressiva no cenário brasileiro.
- B) Entre 1996 e 2006, o aumento das áreas destinadas às pastagens superou o aumento das áreas de lavouras.
- C) Considerando-se o aumento das áreas de lavouras entre 1996 e 2006, os melhores resultados vieram da região Sul.
- D) Estudos recentes apontam uma tendência de diminuição no número de estabelecimentos rurais especializados.
- E) No que diz respeito à pecuária bovina, percebeu-se uma tendência de interiorização nas últimas décadas.

36- O primeiro da expansão ultramarina portuguesa foi a conquista de:

- A) Moçambique.
- B) Ceuta.
- C) Senegal.
- D) Guiné.
- E) Angola.

37- Leia o texto da campanha do Ministério da Saúde em favor da amamentação publicado em 2008: “NADA MAIS NATURAL QUE AMAMENTAR. NADA MAIS IMPORTANTE QUE APOIAR AMAMENTAÇÃO. PARTICIPE E APOIE A MULHER”. O uso deste tipo de campanha pelo Governo Federal do Brasil está diretamente relacionado:

- A) às altas taxas de mortalidade infantil que ainda persistem no país.
- B) à difusão da ideologia de gênero.
- C) à necessidade de fragilizar a ação de multinacionais que monopolizam o comércio de laticínios.
- D) à redução da expectativa de vida ao nascer verificada no país no último decênio.
- E) às elevadas taxas de fecundidade verificadas no país nas últimas décadas.



Prova ESA 2021

38- Entre os diversos movimentos, organizados por particulares, de interiorização do Brasil, a partir do século XVII, tivemos um que se notabilizou para a busca de índios para torna-los escravos. Este movimento ficou conhecido como:

- A) sertanismo de contrato.
- B) extrativismo sertanejo.
- C) escravismo de conquista.
- D) entradas.
- E) bandeirismo de preação.

39- Marcado por diferentes características físicas, o Nordeste brasileiro é comumente dividido em quatro sub-regiões: Meio-norte, Sertão, Agreste e Zona da Mata. Das características abaixo, a única que não se encontra diretamente relacionada às peculiaridades da Zona da Mata nordestina é:

- A) Solo de massapé.
- B) Vegetação de Caatinga.
- C) Clima tropical úmido.
- D) Planícies e tabuleiros litorâneos.
- E) Presença de latifúndios.

40- No contexto da Expansão Ultramarina Europeia dos séculos XV e XVI, pode-se afirmar que:

- A) ao longo século XV, a exploração do litoral africano rendeu poucos lucros aos mercadores portugueses.
- B) os espanhóis, ao chegarem à América, perderam o interesse de continuar buscando uma rota para a China.
- C) os cristãos novos não puderam participar da expansão portuguesa porque esta era uma atividade desenvolvida somente por quem tinha posse de terras.
- D) em finais do século XIV, a atividade comercial passou a ser importante fonte de renda em Portugal.
- E) os nobres portugueses, associados aos cristãos novos, desenvolveram uma mentalidade burguesa e capitalista ao longo do século XVI.

INGLÊS

41- Todas as palavras abaixo formam o plural em inglês como a palavra “photo”, exceto:

- A) video.
- B) radio.
- C) hero.
- D) kilo.
- E) piano.

42- Complete the blanks with the right articles when necessary.

Attention: the blank space (____) in the options means no article

“In my cottage there are _____ tables in the dining room and there is _____ armchair in _____ living room.”

- A) _____, an, the.
- B) a, _____, _____.
- C) a, an, an.
- D) a, an, _____.
- E) _____, a, the.

43- Complete the sentence below using the appropriate pronoun:

“Sometimes, you want a search engine to find pages that have one word on _____ but not another word.”

- A) Them.
- B) They.
- C) These.
- D) Their.
- E) There.

44- Mark the correct alternative:

“Don’t speak so loud! The baby _____ now.”

- A) sleeps.
- B) are sleeping.
- C) sleep.
- D) to sleep.
- E) is sleeping.



Prova ESA 2021

45- Text: Rio de Janeiro

“Rio de Janeiro is Brazil’s heart, its cultural capital and emotional nerve-center (...). It’s wise to remember that the romantic sparking lights that glimmer in the hillsides illuminate the city’s notorious shanty towns. Crime, specially in the tourists-filled Copacabana district, is common. Most visitors are easy targets, if only because they usually lack a tan. Don’t wear expensive watches or jewelry and carry as little cash as possible, especially when going to the beach. (...) The subway system (Metro) is clean, fast and efficient, but only goes as far as Botafogo. It does not extend to Copacabana. Buses are plentiful but are uncomfortable and can be dangerous. (...) Business visitors should not be surprised when meetings start late or executives are informally dressed. This relaxed attitude is conterbalanced by the “carioca’s” quickness and creativity. “Cafezinhos” (literally little coffees), usually highly sugared, and mineral, and mineral water are staple of nearly every business meeting in this city. In meetings between men and women (and between women), kisses on both cheeks are common. Men shake hands enthusiastically. Cariocas are easy going and slow to take offence. (...)”

(Source: 1998 Business Travel Guide adaptado de Inglês Instrumental de Rosangela Munhoz)

Quais destas características, de acordo com o texto, se referem ao transporte público feito pelos ônibus do Rio de Janeiro:

- A) Clean and dangerous.
- B) Fast and dangerous.
- C) Uncomfortable and plentiful.
- D) Clean and comfortable.
- E) Efficient and plentiful.

46- Marque a única alternativa correta de acordo com o texto abaixo.

The Ovambo people in Namibia traditionally build a house for their children, using wooden poles standing closely together to form circular walls. However, as the region where they live is running short of trees, this enterprising ethnic group is turning to a more abundant building material: the empty beer bottles that litter the roadsides and are cheaply available at local stores.

- A) Na Namíbia, encontra-se o litro da cerveja à venda a preços baixos nas lojas de beira de estrada.
- B) Como são o grupo étnico empreendedor, Ovambos estão se voltando para os investimentos no ramo da construção.
- C) As casas são construídas próximas umas das outras no interior de uma muralha circular feita de madeira.
- D) Em função da escassez de madeira, os Ovambos estão construindo casas com garrafas de cervejas vazias.
- E) O povo Ovambo tem a tradição de construir casas para as crianças utilizando madeira e tijolos.

47- Read the comic strip and mark the best option about the attitude of the soldier who is giving food to the squirrel.



- A) The soldier is suspicious of the quality of the food.
- B) The soldier wants to know the squirrel’s opinion about the food.
- C) The soldier intends to kill the squirrel.
- D) The soldier loves animals and cares about them.
- E) The soldier is sure that the food is healthy and delicious.

48- In the sentence “Jackson wasn’t really angry, he was only **pretending**”, the verb in bold means that:

- A) Jackson will be angry.
- B) Jackson acted like he was angry.
- C) Jackson wants to be angry.
- D) Jackson tried not be angry.
- E) Jackson becomes angry easily.

49- Which option has one word out of context?

- A) shorts – sneakers – swimsuit – cap – T-shirt – skirt.
- B) short – tall – good-looking – pretty – heavy – thin.
- C) Brazilian – Russian – New Yorker – France – Spanish – English.
- D) friendly – serious – funny – nice – smart – shy.
- E) China – Mexico – Germany – Turkey – India – United Kingdom.



Prova ESA 2021

50- Observe the extract below:

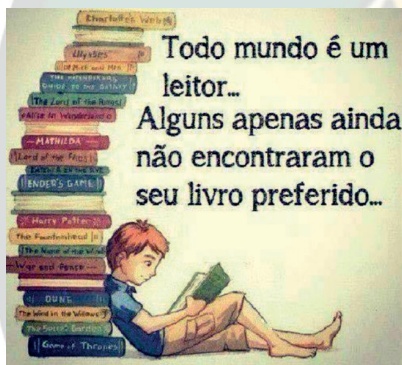
“Everybody’s going on holiday”, Bill said. He laughed. It’s going to be wonderful. No work for two weeks.”

Choose the option in which you can observe the same verb tense as in the underlined words.

- A) She is going home every weekend.
- B) I studying Japanese. It’s fantastic!
- C) I am eating. Can you call me later?
- D) They are travel until Saturday.
- E) We can playing basketball really well.

TEXTO DE APOIO À QUESTÃO DE REDAÇÃO

Texto 1



Texto 2

A leitura no Brasil: Como anda?

“O Dia do Leitor é comemorado no Brasil em 7 de janeiro. Os dados de 2016 revelam que o brasileiro lê em média 2,43 livros por ano. O baixo índice de leitura é uma de nossas mazelas históricas e aponta para o empobrecimento dos debates brasileiros. Por óbvio, o repertório amplo de leituras contribui para o amadurecimento do espírito crítico do cidadão. O que é a realidade senão a leitura que fazemos dela?

Conforme pesquisa, entre as principais motivações que impulsionam os leitores brasileiros estão: o gosto pela leitura (25%), atualização cultural (19%), distração (15%), motivos religiosos (11%), crescimento pessoal (10%), exigência escolar (7%) e atualização profissional ou exigência de trabalho (7%). Todas essas motivações integram o papel civilizador da leitura. Já a primeira razão apresentada pelos leitores como obstáculo para o aumento da leitura é a falta de tempo (43%).

De fato, ler não é tão simples. Ler não é uma atividade passiva, estática, e sim dinâmica. Do mesmo modo que uma biblioteca não é um depósito silencioso de livros. Na leitura há o cruzamento de dois mundos e a possibilidade de se perceber as coisas através de outro ponto de vista. Um livro é um mundo: o mundo de leituras de seu autor dialogando com o mundo do leitor. Por isso, a leitura nunca será igual para dois leitores. Este processo é, sobretudo, civilizador. Como afirmou Mario Vargas Llosa ao receber o prêmio Nobel de Literatura em 2010: ‘um mundo sem leitura se transformaria num mundo sem desejos, sem ideias, um mundo de autômatos privados daquilo que torna humano um ser humano: a capacidade de sair de si mesmo e de se transformar em outro, em outros, modelados pela argila dos nossos sonhos.’”

(Davi Lago, em 06/01/2019, atualizado há um ano. Acessível em: <https://g1.globo.com/politica/blog/matheusleitaopost/2019/01/06/retratos-da-leitura-no-brasil.ghtml>) Texto adaptado para esta prova

Com base nos textos de apoio, escreva um texto dissertativo, de 20 a 30 linhas, com o tema:

A importância da leitura para o aprimoramento pessoal e financeiro.



Prova ESA 2021

GABARITO

- 1- D
- 2- E
- 3- E
- 4- A
- 5- E
- 6- A
- 7- A
- 8- D
- 9- D
- 10- C
- 11- B
- 12- E
- 13- C
- 14- D
- 15- D
- 16- C
- 17- B
- 18- A
- 19- E
- 20- B
- 21- B
- 22- D
- 23- A
- 24- A
- 25- C
- 26- C
- 27- B
- 28- D
- 29- D
- 30- D
- 31- E
- 32- C
- 33- A
- 34- E
- 35- E
- 36- B
- 37- A
- 38- E
- 39- B
- 40- D
- 41- C
- 42- A
- 43- A

- 44- E
- 45- C
- 46- D
- 47- A
- 48- ANULADA
- 49- C
- 50- C

